

1. Стіл готують для 10 гостей. Скільки ще треба принести тарілок та чашок?

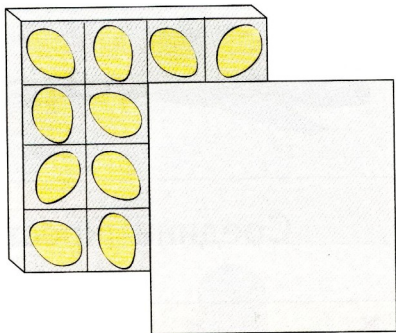



Скільки ще чашок? _____

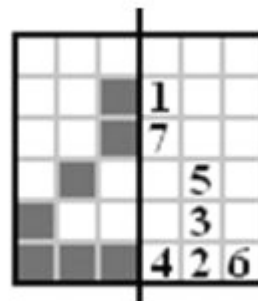


Скільки ще тарілок? _____

2. Обведи персонажа, якщо той не в спідниці, не в штанцях і не пtiця.

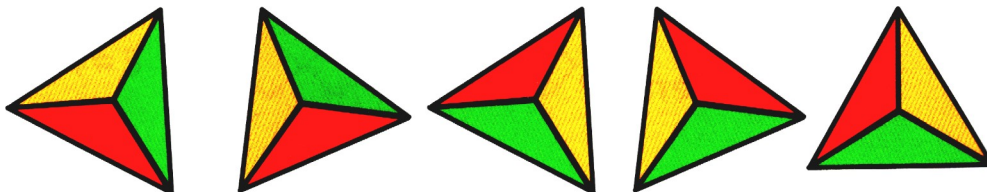


3. Скільки яєць не видно під кришкою коробки? _____



4. Аркуш зігнули навпіл по чорній лінії. Яка цифра не потрапила на чорний квадрат? _____

5. Всі трикутники, крім одного, розфарбовано однаково. Обведи цей трикутник.



6. Катя народилася на 2 роки раніше Насті. Зараз Насті 3 роки. Скільки років Каті? _____

7. У лисиці та собаки віконця різного кольору. Собака мешкає нижче лисиці. Де віконце кожного звіра?



$$\text{grapes} + \text{grapes} = 8$$

$$\text{grapes} = \underline{\quad}$$

$$\text{grapes} + \text{orange} = 7$$

$$\text{orange} = \underline{\quad}$$

$$\text{orange} + \text{strawberry} = 5$$

$$\text{strawberry} = \underline{\quad}$$

8. Під однаковими фруктами сховались однакові числа. Чому дорівнюють фрукти?

9. У дворі гуляли 3 кошеня, 2 каченя, 2 курча і кілька цуценят. Всього в них було 28 лап. Скільки було цуценят у дворі? _____

Прізвище, ім'я _____

1 клас

